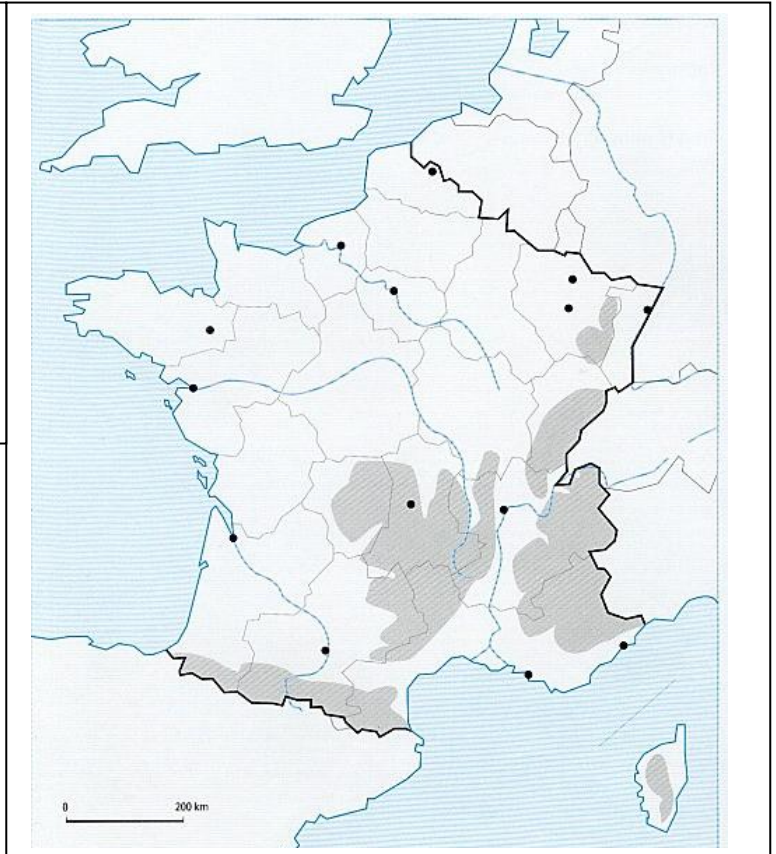


## DEUXIEME PARTIE : GEOGRAPHIE (13 points)




### I- Questions. (8 points)

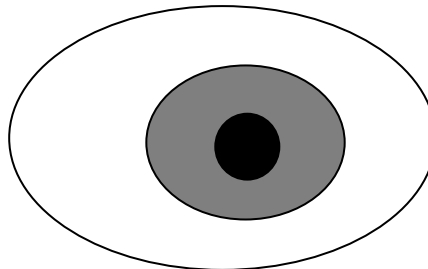
1. Sur la carte, placez les n° des repères suivants: (3 points)

- Bordeaux 1
  - Lyon 2
  - Les Alpes 3
  - la Loire 4
  - La Mer méditerranée 5
  - La Bourgogne 6
- 0,5 point par repère



2. Placez dans la légende les éléments qui composent une aire urbaine. (1,5 point)

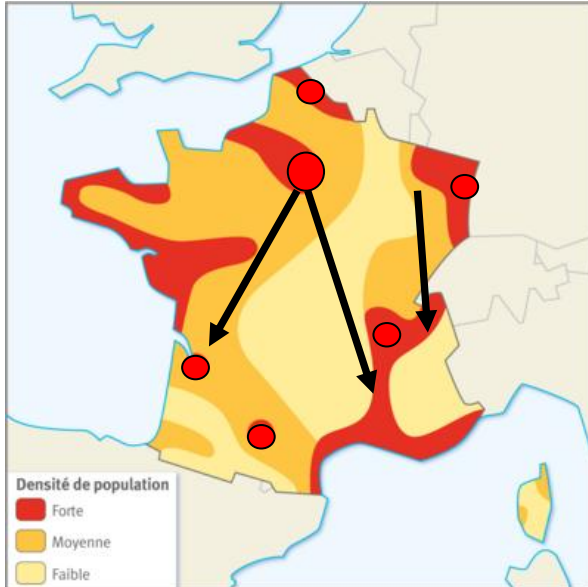
-  Centre-ville
-  Les banlieues
-  La couronne périurbaine



3. Complétez la légende et le titre de la carte.(3 points)

L'essentiel de la population française se concentre dans les zones urbaines, notamment à Paris, Lyon, Marseille, sur les littoraux de la Mer Méditerranée, de l'océan Atlantique et dans les vallées fluviales comme celles de la Seine ou du Rhône. A l'inverse, une large "diagonale du vide" relie les Ardennes aux Pyrénées.

Titre: 0,5 pt une répartition de la population inégale, contrastée .....



Légende

0,5 pt par élément : on sanctionne si le choix des couleurs n'est pas cohérent

Fortes densités de pop (0,25 + 0,25)

Densités moyennes de pop (0,25 + 0,25)

Faibles densités de pop (0,25 + 0,25)

● Principales agglomérations / aires urbaines

→ Flux migratoires internes / intérieurs

4. Comment appelle-t-on l'espace très peu peuplé en France ? (0.5 point)

La diagonale du vide

## II- Travail sur document. (5 points)

Globalement, les campagnes ne se dépeuplent plus depuis 1975 [...]. Depuis, ces territoires profitent d'une croissance démographique grâce à un solde migratoire à présent positif [...]. Ce renversement est d'autant plus étonnant qu'à chaque recensement, les communes les plus dynamiques, qui sont généralement les plus proches des agglomérations urbaines, sont absorbées par ces dernières.

[...] En effet, la population des agglomérations a comme débordé sur les communes rurales voisines, par installation de ménages citadins qui conservent généralement leur emploi en ville et font donc chaque jour des navettes pour se rendre de leur résidence rurale à leur travail en ville. La hausse du niveau de vie, l'amélioration et le développement des voies de communication, le coût élevé des maisons et des terrains à bâtir, les aides au logement qui encouragent l'accession à la propriété ont permis à certaines catégories de ménages de réaliser leur désir de posséder une maison individuelle et d'acheter [...] à la campagne.

D'après le site [www.senat.fr](http://www.senat.fr)

1. Comment évolue la population des campagnes depuis 1975 ? (0.5 point)

La pop des campagnes augmente.

2. D'où viennent les nouveaux habitants des campagnes ? (0.5 point)

Ils viennent des villes (centre-ville).

3. Comment appelle-t-on ce phénomène ? (1 point)

La périurbanisation (étalement urbain)

4. D'après vos connaissances, quels sont les problèmes posés par ce phénomène ? 2 réponses attendues. (2 points)

- les villes grignotent l'espace rural avec la construction de lotissements, d'activités industrielles et commerciales.  
- conséquences sur l'environnement : pollution, dégradation des milieux naturels et des paysages

5. Comment s'appellent les déplacements quotidiens de la phrase soulignée ? (1 point)

Les migrations pendulaires.